















Всероссийская викторина «Путешествие по карте мира»

(для учащихся 3-4 классов)

Ответ должен быть представлен строго в виде **ОДНОГО СЛОВА** или **ОДНОГО ЧИСЛА** без кавычек, точек, орфографических ошибок в именительном падеже и единственном числе. Неверно записанные ответы не учитываются.

<p>1.</p>	<p>Это самая большая страна. Она занимает почти весь материк Евразию и девятую часть суши. В ней вместились бы примерно 25 Франций и 47 Германий.</p> <p>Как называется эта страна?</p> <p>-----</p>	
<p>2.</p>	<p>Красная площадь, Эрмитаж, Софиевский Собор, остров Кижы, дворцовый комплекс Царицыно.</p> <p>Назови столицу страны, в которой можно увидеть все эти достопримечательности.</p> <p>-----</p>	
<p>3.</p>	<p>Много лет назад в этой стране вырастили удивительное дерево с розовыми цветами. У него красивое название – Сакура. Когда сакура зацветает, вся страна словно окрашивается в розовый цвет. Потрясающее зрелище!</p> <p>О какой стране идёт речь? Запиши название страны в ответе.</p>	
<p>4.</p>	<p>Это самая большая страна Южной Америки. Там проходят знаменитые танцевальные карнавалы.</p> <p>Догадайся, о какой стране идёт речь? Запиши название страны в ответе.</p>	
<p>5.</p>	<p>Какой океан самый большой?</p> <ol style="list-style-type: none">1) Индийский2) Тихий3) Атлантический <p>Запиши номер выбранного варианта в ответе.</p>	
<p>6.</p>	<p>Это страна уникальных животных! Здесь живут звери, которые не водятся больше нигде: кенгуру, эму, вомбаты, коала.</p> <p>Как называется эта страна? Запиши название страны в ответе.</p>	
<p>7.</p>	<p>Больше 70% земной поверхности покрыто ...</p> <ol style="list-style-type: none">1) пустынями2) горами3) водой4) лесами <p>Запиши номер выбранного варианта в ответе.</p>	

8.	Разгадай ребус. Какая страна здесь зашифрована? -----	
9.	Эти уникальные «картины» позволяют нам обозревать всю Землю. Люди рисовали их испокон веков. Они исследовали леса, горы и реки поблизости и обозначали их особыми знаками. Так уже древние племена знали, как пойти далеко на охоту и не заблудится. Как мы называем эти «картины»? -----	
10.	В каком городе стоит статуя Свободы? 1) Нью-Йорк 2) Милан 3) Рим Запиши номер выбранного варианта в ответе.	
11.	Разгадай ребус. Какая страна здесь зашифрована? -----	
12.	Какой материк полностью покрыт льдом? 1) Африка 2) Антарктида 3) Австралия Запиши номер выбранного варианта в ответе.	
13.	Определи страну по изображению достопримечательности. Запиши название страны в ответе. ----- Я	
14.	Эйфелева башня, Лувр, Елисейские поля, долина реки Луары с великолепными замками. Назови столицу страны, в которой можно увидеть все эти достопримечательности.	
15.	Определи страну и её столицу по изображению столичной достопримечательности. Запиши название столицы в ответе. --- Н ---	
16.	В древности это море называлось Янтарным из-за обилия в нем янтаря. О каком море идёт речь? 1) Чёрное море 2) Азовское море 3) Балтийское море Запиши номер выбранного варианта в ответе.	

<p>17.</p>	<p>В какой стране придумали гамбургер?</p> <ol style="list-style-type: none"> 1) Германия 2) США 3) Нидерланды <p>Запиши номер выбранного варианта в ответе.</p>	
<p>18.</p>	<p>Разгадай ребус. Какая страна здесь зашифрована?</p>	
<p>19.</p>	<p>Какая гора самая высокая на планете?</p> <ol style="list-style-type: none"> 1) Эльбрус 2) Эверест 3) Монблан <p>Запиши номер выбранного варианта в ответе.</p>	
<p>20.</p>	<p>Определи страну по изображению ее достопримечательности.</p> <p>Запиши название столицы этой страны в ответе.</p>	
<p>21.</p>	<p>Что такое Колизей?</p> <ol style="list-style-type: none"> 1) Древнее сооружение под открытым небом? 2) Название гробницы в Египте 3) Развалины города в Италии <p>Запиши номер выбранного варианта в ответе.</p>	
<p>22.</p>	<p>Разгадай ребус. Какая страна здесь зашифрована?</p> <p style="text-align: center;">-----</p>	
<p>23.</p>	<p>Какой город стоит на воде?</p> <ol style="list-style-type: none"> 1) Рим 2) Венеция 3) Стамбул <p>Запиши номер выбранного варианта в ответе.</p>	
<p>24.</p>	<p>Эта река находится в южном полушарии самого жаркого материка. Она несет свои воды через горы, джунгли и саванны, несколько раз меняя направление. Именно к этой реке в Африке стремился доктор Айболит.</p> <p>Как называется эта река?</p> <p style="text-align: center;">-----</p>	
<p>25.</p>	<p>Определи страну и ее столицу по изображению столичной достопримечательности.</p> <p>Запиши название столицы в ответе.</p> <p style="text-align: center;">-----</p>	